

REGISTRO Y ORGANIZO DATOS







ACTIVIDAD

1. **COMPLETO** la tabla con palitos.




Por cada animal que cuento trazo un palito.

Animal	Conteo	Total
		6
		
		
		

2. **COMPLETO** el gráfico dibujando los animales que faltan.



Dibujó la cantidad de animales que conté.

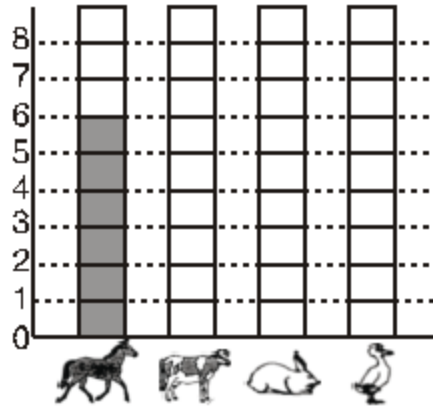




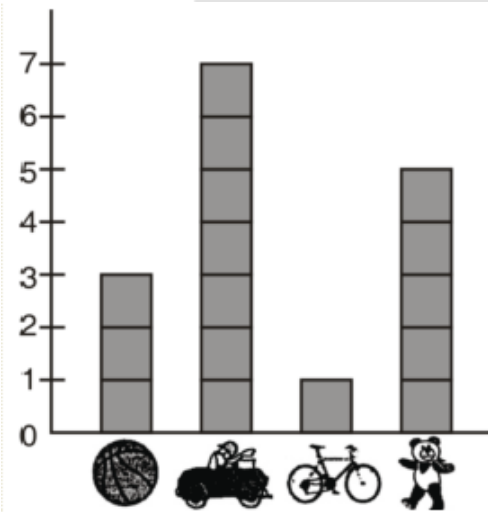
3. Termino de graficar PINTANDO cuadraditos.



Pinto un cuadradito por cada animal que conté.



4. OBSERVO el gráfico de barras que hizo Franko para contabilizar los juguetes que tiene, y RESPONDO las preguntas.



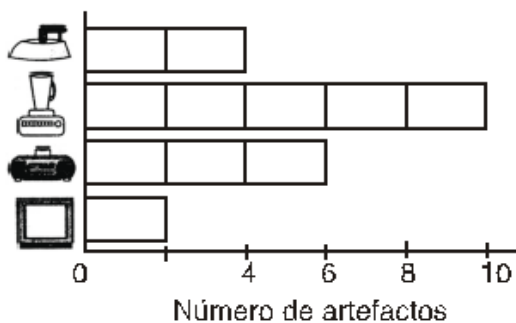
¿Cuántas tiene? _____

¿Cuántas tiene? _____

¿Cuántas tiene? _____

¿Cuántas tiene? _____

5. El siguiente gráfico nos indica las ventas de un día en la tienda de artefactos eléctricos de Ernesto. OBSERVO el gráfico y RESPONDO.



¿Cuántas se vendieron? _____

¿Cuántas se vendieron? _____

¿Cuántas se vendieron? _____

¿Cuántas se vendieron? _____



6. En un avión nos visitan pasajeros de distintas nacionalidades. El siguiente gráfico nos muestra la cantidad de pasajeros que nos visitaron el día de ayer. OBSERVO la clave y LLENO el cuadro.

