












# RECONOZCO LAS MONEDAS Y LOS BILLETES

**MONEDAS**





 10 céntimos	 1 sol
 20 céntimos	 2 soles
 50 céntimos	 5 soles

**BILLETES**

	
	
	200 soles
50 soles	







## ACTIVIDAD

### ¿CUÁNTO TENGO?






	8 veces 2 soles = 8 × 2 soles = 16 soles
	___ veces ___ soles = ___ × ___ soles = ___ soles
	___ veces ___ soles = ___ × ___ soles = ___ soles
	___ veces ___ soles = ___ × ___ soles = ___ soles



- ANOTO en la tabla el número de monedas y billetes que necesito para pagar.

						
48 soles	3		1		2	
84 soles						
125 soles						
118 soles						
347 soles						

- COMPLETO el cuadro

Artículo	Precio por unidad	Precio por 2 artículos	Precio por 3 artículos	Precio por 4 artículos	Precio por 5 artículos
	30 céntimos				
	10 céntimos				
	50 céntimos				
	3 soles				
	2 soles				

- Viendo el cuadro anterior, COMPLETO el ticket de cada compra.

2 helados → _____	2 cajitas de fósforo → _____
4 cajitas de chicle → _____	3 jugos → _____
5 caramelos → _____	1 helado → _____
Importe total → _____	Importe total → _____
Pago con → <u>10 soles</u>	Pago con → <u>15 soles</u>
Mi vuelto → _____	Mi vuelto → _____
4 caramelos → _____	4 cajitas de fósforo → _____
3 cajitas de chicle → _____	3 cajitas de chicle → _____
5 jugos → _____	5 helados → _____
Importe total → _____	Importe total → _____
Pago con → <u>12 soles</u>	Pago con → <u>20 soles</u>
Mi vuelto → _____	Mi vuelto → _____



**RESUELVE problemas.**

01. Camucha compró una blusa a 15 nuevos soles y un par de medias a 4 nuevos soles. Si pagó con un billete de 50 nuevos soles. ¿Cuánto recibió de vuelto?

OPERACIÓN	RESPUESTA

02. Javier tiene 275 nuevos soles y se compra un pantalón que cuesta 53 nuevos soles y una casaca en 30 nuevos soles. ¿Cuánto dinero gastó y cuánto le queda ahora?

OPERACIÓN	RESPUESTA

03. Pedro tiene ahorrado 547 nuevos soles, si va a Metro y gasta 346 nuevos soles en un juego. ¿Cuánto dinero le quedará?

OPERACIÓN	RESPUESTA

04. Alicia compra un vestido por 58 nuevos soles y un par de zapatos por 38 nuevos soles. ¿Cuánto paga por los dos?

OPERACIÓN	RESPUESTA