

# MIDO EL TIEMPO

## USO DEL CALENDARIO



El tiempo se mide en años, meses, días, horas, minutos y segundos.

El calendario marca los meses y los días.

Un año tiene 12 meses: enero, febrero, marzo, abril, mayo, junio, julio, agosto, setiembre, octubre, noviembre y diciembre.

El mes tiene 30 ó 31 días. El mes de febrero tiene 28 días ó 29 días en algunos casos.

La semana tiene 7 días: lunes, martes, miércoles, jueves, viernes, sábado y domingo.

• **COMPLETO.**

Mes \_\_\_\_\_ Año 200\_\_

L	M	M	J	V	S	D

• **Ahora, RESPONDE:**

1. ¿En qué mes estamos? \_\_\_\_\_
2. ¿Cuántos días tiene? \_\_\_\_\_
3. ¿Cuántos domingos tiene este mes? \_\_\_\_\_
4. ¿Cuántos meses tiene el año? \_\_\_\_\_
5. ¿Qué meses tienen 30 días? \_\_\_\_\_
6. ¿Cuál es la fecha de tu nacimiento? \_\_\_\_\_



**ESCRIBE** los meses del año que faltan.

enero , \_\_\_\_\_ , \_\_\_\_\_

abril , \_\_\_\_\_

\_\_\_\_\_ , julio , \_\_\_\_\_

setiembre , \_\_\_\_\_

\_\_\_\_\_ , \_\_\_\_\_



**LEE y COMPLETA.**

A. ¿En qué día y mes es el cumpleaños de tu país?

\_\_\_\_\_

B. ¿En qué día y mes es el cumpleaños de tu profesora?

\_\_\_\_\_

C. ¿Cuáles son los meses del año escolar?

\_\_\_\_\_

D. ¿En qué día y mes nació el niño Jesús?

\_\_\_\_\_

E. ¿Cuáles son los meses de tus vacaciones?

\_\_\_\_\_





## DIFERENCIO LAS ESTACIONES DEL AÑO

**VERANO**  
22 de diciembre  
al 21 de marzo



**OTOÑO**  
22 de marzo  
al 21 de junio

**INVIERNO**  
22 de junio  
al 22 de setiembre



**PRIMAVERA**  
23 de setiembre  
al 21 de diciembre

**COMPLETA:**

A. ¿En qué meses vas a la playa? \_\_\_\_\_

B. ¿Qué estación te gusta más? \_\_\_\_\_









## MEDICIÓN DEL TIEMPO

### Recuerda







- Una hora es igual a sesenta minutos.
- La aguja pequeña indica la hora.
- La aguja grande indica los minutos.

## ACTIVIDAD

1. ESCRIBE qué hora señalan las agujas del reloj.

 <p>.....</p>	 <p>.....</p>	 <p>.....</p>
 <p>.....</p>	 <p>.....</p>	 <p>.....</p>

2. REPRESENTA la hora (DIBUJA las agujas). USA dos colores.

<p>2 y 15 minutos</p> 	<p>3 y 25 minutos</p> 	<p>10 y 35 minutos</p> 
<p>9 y 5 minutos</p> 	<p>11 y 10 minutos</p> 	<p>6 y 45 minutos</p> 



3. **LEE las preguntas y ESCRIBE las respuestas.**

- A. En 2 años y medio, ¿cuántos años hay? \_\_\_\_\_
- B. En 36 meses, ¿cuántos años hay? \_\_\_\_\_
- C. En 2 años, ¿cuántos días hay? \_\_\_\_\_
- D. En 2 meses y medio, ¿cuántos días hay? \_\_\_\_\_
- D. En 4 semanas, ¿cuántos días hay? \_\_\_\_\_
- E. En 3 días y medio, ¿cuántas horas hay? \_\_\_\_\_
- F. En 120 minutos, ¿cuántas horas hay? \_\_\_\_\_

**RESUELVE problemas sobre edades.**

1. Una persona nació en 1970. ¿Qué edad tiene ahora?

OPERACIÓN	RESPUESTA

2. Javier tiene 15 años y su papá tiene 42 años. ¿En qué año nació cada uno?

OPERACIÓN	RESPUESTA

3. La edad de Carlos es el doble que la de Juana. Si Juana tiene 12 años. ¿En qué año nació Carlos?

OPERACIÓN	RESPUESTA

4. Un automóvil emplea 1 hora y media de Lima a Huacho, el mismo tiempo en el regreso. ¿cuántos minutos emplea para ir y regresar?

OPERACIÓN	RESPUESTA