










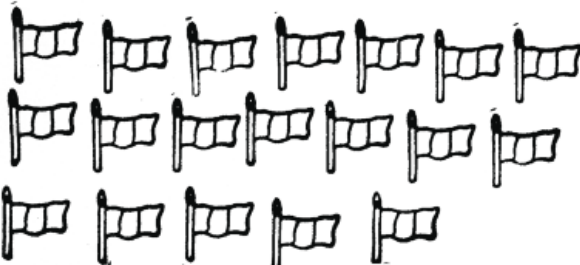

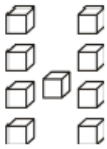











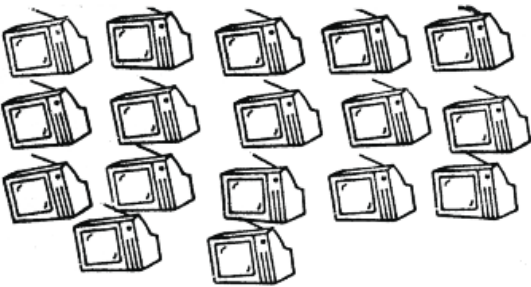

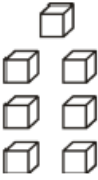




Ya conozco la decena con ella voy a formar muchos números añadiéndole unidades



Ejemplo:

11	12	13	14	15	16	17	18	19
once	doce	trece	catorce	quince	dieciséis	diecisiete	dieciocho	diecinueve

1. FORMA grupos de 10 , COMPLETA y COLOREA

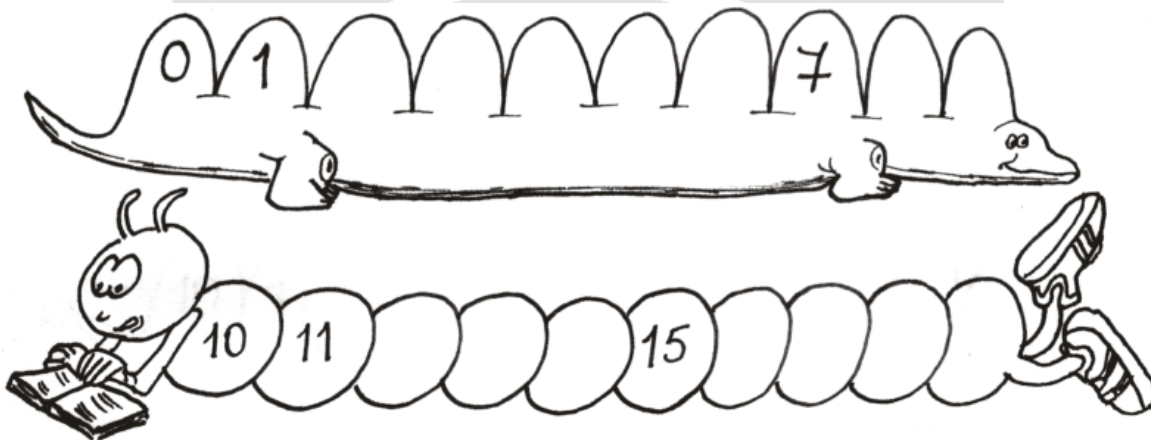
 <p>_____ decena y _____ unidades sueltas</p>	<table border="1"> <thead> <tr> <th>Decenas</th> <th>Unidades</th> </tr> </thead> <tbody> <tr> <td></td> <td></td> </tr> </tbody> </table>	Decenas	Unidades			<table border="1"> <tr> <td>D</td> <td>U</td> </tr> <tr> <td></td> <td></td> </tr> <tr> <td colspan="2" style="text-align: center;"><i>doce</i></td> </tr> </table>	D	U			<i>doce</i>	
Decenas	Unidades											
												
D	U											
<i>doce</i>												
 <p>_____ decena y _____ unidades sueltas</p>	<table border="1"> <thead> <tr> <th>Decenas</th> <th>Unidades</th> </tr> </thead> <tbody> <tr> <td></td> <td></td> </tr> </tbody> </table>	Decenas	Unidades			<table border="1"> <tr> <td>D</td> <td>U</td> </tr> <tr> <td></td> <td></td> </tr> <tr> <td></td> <td></td> </tr> </table>	D	U				
Decenas	Unidades											
												
D	U											
 <p>_____ decena y _____ unidades sueltas</p>	<table border="1"> <thead> <tr> <th>Decenas</th> <th>Unidades</th> </tr> </thead> <tbody> <tr> <td></td> <td></td> </tr> </tbody> </table>	Decenas	Unidades			<table border="1"> <tr> <td>D</td> <td>U</td> </tr> <tr> <td></td> <td></td> </tr> <tr> <td></td> <td></td> </tr> </table>	D	U				
Decenas	Unidades											
												
D	U											
 <p>_____ decena y _____ unidades sueltas</p>	<table border="1"> <thead> <tr> <th>Decenas</th> <th>Unidades</th> </tr> </thead> <tbody> <tr> <td></td> <td></td> </tr> </tbody> </table>	Decenas	Unidades			<table border="1"> <tr> <td>D</td> <td>U</td> </tr> <tr> <td></td> <td></td> </tr> <tr> <td></td> <td></td> </tr> </table>	D	U				
Decenas	Unidades											
												
D	U											



2. RELACIONA, con una línea, cada descomposición con el número que la representa y con el nombre de dicho número

1 decena y 3 unidades sueltas		18	once
1 decena y 1 unidad suelta		15	trece
1 decena y 5 unidades sueltas		13	quince
1 decena y 8 unidades sueltas		11	dieciocho

3. ESCRIBE los números que faltan en cada secuencia.



4. ESCRIBE el número que va justo después del número dado

12		9		15		17	
2		16		11		7	

5. ESCRIBE el número que va justo antes del número dado.

	12		9		15		17
	8		1		19		14

6. ESCRIBE el número que va entre los números dados.



De menor a mayor:

5	12	16	10
<input type="text"/>	<input type="text"/>	<input type="text"/>	<input type="text"/>
<input type="text"/>	<	<input type="text"/>	<
<input type="text"/>	<	<input type="text"/>	<

De mayor a menor:

15	19	11	13
<input type="text"/>	<input type="text"/>	<input type="text"/>	<input type="text"/>
<input type="text"/>	>	<input type="text"/>	>
<input type="text"/>	>	<input type="text"/>	>

